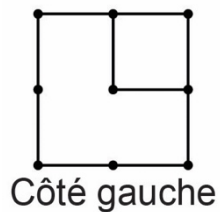


Construire des objets à partir de vues

Partie A : Une vue

Construisez un objet qui a cette vue de côté gauche.

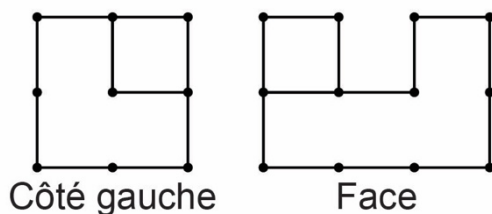


Combien d'objets différents pouvez-vous construire ?

Construire des objets à partir de vues (suite)

Partie B : Deux vues

Construisez un objet qui a cette vue de côté gauche et cette vue de face.

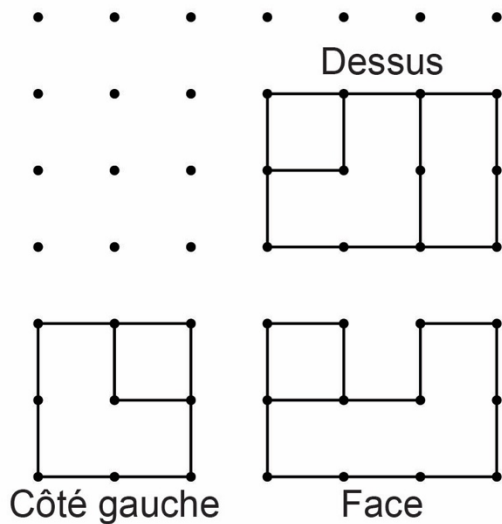


Combien d'objets différents pouvez-vous construire ?

Construire des objets à partir de vues (suite)

Partie C : Trois vues

Construisez un objet qui a cette vue de côté gauche, cette vue de face et cette vue de dessus.

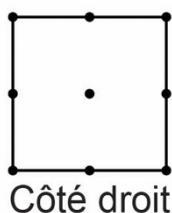


Combien d'objets différents pouvez-vous construire maintenant ?

Construire des objets à partir de vues (suite)

Partie D : Quatre vues

Voici la vue de côté droit. Votre objet est-il correct ?



Si ce n'est pas le cas, ajoutez ou déplacez des cubes jusqu'à ce que ce soit le cas.

Qu'avez-vous remarqué à mesure que le nombre de vues augmentait ?